

MINISTERE DE L 'EDUCATION NATIONALE

MINISTERE DE L'ENSEIGNEMENT SUPERIEUR
ET DE LA RECHERCHE

SESSION 2008

UNIVERSITE DE ROUEN
Bureau des Concours ITRF
1, rue Thomas Becket
76821 MONT SAINT AIGNAN Cedex

CONCOURS ADJOINTS TECHNIQUES PRINCIPAUX 2ème Classe
de Recherche et Formation
BAP : G
Spécialité : **Opérateur Logistique**

CONCOURS EXTERNE

EPREUVE ECRITE D'ADMISSIBILITE

MARDI 10 JUIN 2008

9H 30

DUREE : 2 Heures – COEFFICIENT : 3

Il vous est rappelé que votre identité ne doit figurer que dans la partie supérieure de la bande en-tête de la copie mise à votre disposition. Toute mention d'identité portée sur tout autre partie de la copie (ou des copies) mènera à l'annulation de votre épreuve.

- le sujet comporte 5 pages (assurez vous qu'il est complet)

"Opérateur de logistique"

EPREUVE ECRITE D'ADMISSIBILITE

1 - La fiche technique d'un détergent indique une dilution à 2 %. Combien faut-il verser de produit dans 10 litres d'eau ?

- | | | |
|----|--------------------------|-----------------|
| R1 | <input type="checkbox"/> | 0,02 L |
| R2 | <input type="checkbox"/> | 20 centilitres |
| R3 | <input type="checkbox"/> | 20 millilitres |
| R4 | <input type="checkbox"/> | 200 centilitres |

2 - Qu'est-ce qu'une UP ?

3 - Que signifie la norme UPEC ? A quoi sert cette classification ?

4 - Citez différents types de peinture. Dans quels locaux les applique t'on ?

5 - Quelles sortes d'extincteurs connaissez-vous ?

6 - Citez 3 classes de feu.

7 - A quelle distance d'attaque utilisez-vous les différents types d'extincteurs ?

8 - Quelle est la périodicité de vérification des extincteurs ?

9 - Quel est le nom de l'actuel ministre de l'enseignement supérieur ?

10 - Quelles sont les couleurs des fils derrière une PC de 16 A ?

11 - Dans quels cas utilise t'on une prise RJ 45 ?

12 - A quoi sert une rampe d'accès ?

13 - Si vous composez les numéros suivants, qui seront vos interlocuteurs ?

15

112

17

18

14 - Vous détectez une forte odeur de gaz dans un local obscur. Que faites-vous en priorité ?

- | | | |
|----|--------------------------|--|
| R1 | <input type="checkbox"/> | Vous allumez la lumière |
| R2 | <input type="checkbox"/> | Vous ouvrez les fenêtres et vous coupez l'arrivée de gaz si elle est visible |
| R3 | <input type="checkbox"/> | Vous déclenchez l'alarme incendie |
| R4 | <input type="checkbox"/> | Vous prévenez un responsable |

15 - Qu'est-ce qu'un S.S.I. ?

16 - Qu'est-ce qu'une U.F.R. ?

17 - Qu'est-ce qu'un organigramme de clés ?







18 - Dans un établissement d'enseignement est-il obligatoire de créer au moins une place de stationnement pour les handicapés ?

19 - A quoi correspondent les formats A3 et A4 ?

20 - Dans la distribution de courrier, à quoi correspondent les sigles A.R. Et R.C. ?

21 - Quel est le coût d'un affranchissement pour un pli de moins de 20 g en tarif normal ?

22 - Quelle est la signification des 6 pictogrammes suivants ?

23 - Une tâche récurrente est une tâche :

- R1 Insignifiante
- R2 Qui ne se nettoie jamais
- R3 Qui apparaît régulièrement
- R4 Agressive

24 - Pour le débroussaillage des espaces verts, quelle est la tenue appropriée ?

25 - Quels sont les équipements obligatoires, à compter du 01/07/08 dans tout véhicule ?

26 - Le Code de la Route s'applique t'il sur un campus universitaire ?

27 - Vous êtes responsable du parc automobile? Quelles vérification quotidiennes devez-vous effectuer ?
(4 réponses exigées)

28 - Quels sont les moyens dont vous disposez pour définir un itinéraire routier ? (2 réponses exigées).

29 - Quelle est la définition du sigle P.L.S. ?

30 - Que signifie S.S.T. ? Précisez le rythme de recyclage.

Vous présentez un concours de la fonction publique. En cas de réussite à quelle fonction publique
31 - appartiendrez-vous ?

32 - Pour appliquer 2 couches de peinture sur les murs d'une salle de 8 m de long sur 5 m de large et 2,5 m de hauteur, quelle est la surface à peindre sachant que la pièce comprend 3 fenêtres de 1 m sur 1,2 m ?

33 - La peinture pour peindre la salle a un rendement de 8 m² au litre. Combien faut-il de pots de peinture sachant que vous disposez de pots de 3 litres à 25 € l'unité et de 1 litre à 10 € l'unité ? Comment vous approvisionnez-vous pour minimiser la facture ?

34 - Citez au minimum 3 types d'habilitation électrique.

35 - Quelle est la différence entre une serrure à larder et une serrure en applique ?

MINISTERE DE L 'EDUCATION NATIONALE

MINISTERE DE L'ENSEIGNEMENT SUPERIEUR
ET DE LA RECHERCHE

SESSION 2008

UNIVERSITE DE ROUEN
Bureau des Concours ITRF
1, rue Thomas Becket
76821 MONT SAINT AIGNAN Cedex

CONCOURS ADJOINT TECHNIQUE 2^{ème} CLASSE
de Recherche et Formation
BAP : G
Spécialité : **Opérateur Logistique**

CONCOURS EXTERNE

EPREUVE PROFESSIONNELLE

Mardi 24 JUIN 2008

10H 00

DUREE : 1 Heure – COEFFICIENT : 3

Il vous est rappelé que votre identité ne doit figurer que dans la partie supérieure de la bande en-tête de la copie mise à votre disposition. Toute mention d'identité portée sur tout autre partie de la copie (ou des copies) mènera à l'annulation de votre épreuve.

L'usage de la calculatrice non programmable est autorisée.

- le sujet comporte 2 pages (assurez vous qu'il est complet)

Vous êtes gestionnaire de la boutique de l'université (fonctionnant en année universitaire) et différentes demandes vous sont transmises concernant diverses manifestations à venir. Ces demandes concernent trois des produits actuellement en vente dans la boutique.

Vous devez préparer le document de commandes qui sera transmis pour validation et signature à votre chef de service.

Ce document comprendra les indications suivantes :

- La semaine à laquelle la commande sera passée par produit
- La désignation des articles
- La quantité par produit
- Le montant H.T par produit
- Le montant TTC par produit
- Le montant total de la commande H.T et TTC par produit (TVA 19.6 %)
- La semaine prévue de livraison par produit.

Stock actuel au 03 mars 2008 :

- porte document : 15
- parure de stylos : 50
- parapluie : 20

Produits :

- porte document : livraison par lot de 100 au prix de 4.50 l'unité TTC
- parure de stylos : livraison par lot de 50 au prix de 3.90 l'unité TTC
- parapluie : livraison par lot de 25 au prix de 15.70 l'unité TTC

Transport : le prix du transport est compris dans la commande

Evènements :

- rentrée universitaire le 01/09/2008
 - . besoins : porte documents : 70
- Fête de l'université fin deuxième trimestre 2009
 - . besoins : stylos : 350
- Demande interne : janvier 2009
 - . besoins : parapluies : 45

Fermeture de l'université du 18 juillet au soir au 25 août 2008 au matin et du 19 décembre 2008 au soir au 02 janvier 2009 au matin.

Délais de livraison : environ 4 semaines sauf, pour les stylos environ 2 semaines

	janv-08	févr-08	mars-08	avr-08	mai-08	juin-08	juil-08	août-08	sept-08	oct-08	nov-08	déc-08
M1	V1	S1	S1	M1	J1	D1	M1	V1	L1	M1	S1	L1
M2	S2	D2	V2	J2	L2	M2	M2	S2	M2	J24	D2	M2
J3	D3	L3	S3	M3	M3	J3	J3	D3	M3	V3	L3	M3
V4	M4	J4	L4	M4	M4	V4	V4	M4	M4	S4	M4	J4
S5	M5	L5	S5	M5	M5	S5	S5	M5	M5	D5	V5	M5
D6	M6	J6	L6	M6	M6	V6	D6	M6	M6	L6	V6	S6
L7	J7	L7	S7	M7	M7	S7	J7	V7	M7	D7	V7	D7
M8	V8	S8	D8	M8	M8	V8	M8	S8	M8	L8	S8	L8
M9	S9	D9	V9	M9	M9	J9	J9	D9	M9	J9	D9	M9
J10	D10	L10	S10	M10	M10	V10	V10	M10	M10	L10	M10	M10
V11	M11	J11	L11	M11	M11	J11	J11	D11	M11	V11	M11	J11
S12	M12	L12	S12	M12	M12	V12	S12	M12	M12	D12	M12	V12
D13	M13	J13	L13	M13	M13	V13	S13	M13	M13	L13	J13	S13
L14	J14	L14	M14	M14	M14	V14	D14	M14	M14	V14	V14	D14
M15	V15	S15	L15	M15	M15	S15	M15	M15	M15	L15	S15	L15
M16	S16	D16	V16	M16	M16	V16	S16	M16	M16	J16	D16	M16
V17	D17	L17	S17	M17	M17	J17	J17	V17	M17	L17	M17	V17
L18	M18	J18	D18	M18	M18	V18	V18	M18	M18	S18	M18	J18
S19	M19	L19	S19	M19	M19	J19	S19	M19	M19	D19	M19	V19
D20	M20	J20	L20	M20	M20	V20	D20	M20	M20	L20	J20	S20
L21	J21	L21	M21	M21	M21	S21	L21	J21	M21	M21	V21	D21
M22	V22	S22	D22	M22	M22	V22	M22	V22	M22	L22	S22	L22
M23	S23	D23	V23	M23	M23	J23	M23	M23	M23	J23	D23	M23
J24	D24	L24	S24	M24	M24	V24	J24	D24	M24	L24	M24	M24
V25	M25	L25	M25	M25	M25	S25	M25	M25	M25	S25	M25	J25
S26	M26	J26	L26	M26	M26	V26	S26	M26	M26	D26	M26	V26
D27	M27	L27	S27	M27	M27	J27	D27	M27	M27	L27	J27	S27
L28	J28	L28	M28	M28	M28	V28	D28	M28	M28	D28	V28	D28
M9	V29	S29	D29	M9	M9	J9	M9	M9	M9	L29	S29	L29
M30	S30	D30	V30	M30	M30	V30	M30	M30	M30	J30	D30	M30
J31	L31	S31	D31	M31	M31	J31	V31	D31	M31	L31	M31	J31

	janv-09	févr-09	mars-09	avr-09	mai-09	juin-09	juil-09	août-09	sept-09	oct-09	nov-09	déc-09
J1	D1	L1	S1	M1	L1	M1	M1	D1	D1	M1	V1	D1
V2	L2	S2	D2	J2	M2	J2	D2	L2	L2	M2	S2	L2
S3	M3	L3	S3	M3	M3	V3	M3	M3	M3	J3	D3	M3
D4	M4	L4	L4	M4	M4	S4	M4	M4	M4	V4	L4	M4
L5	J5	L5	M5	M5	M5	S5	M5	M5	M5	S5	M5	J5
M6	V6	S6	D6	M6	M6	V6	J6	M6	M6	D6	M6	V6
M7	S7	L7	J7	M7	M7	S7	M7	M7	M7	L7	J7	S7
J8	D8	L8	S8	M8	M8	V8	M8	M8	M8	D8	V8	D8
V9	L9	S9	D9	M9	M9	J9	M9	M9	M9	L9	S9	L9
S10	M10	L10	S10	M10	M10	V10	M10	M10	M10	D10	M10	M10
D11	M11	L11	L11	M11	M11	J11	M11	M11	M11	V11	L11	M11
L12	J12	L12	M12	M12	M12	V12	D12	M12	M12	S12	M12	J12
M13	V13	S13	D13	M13	M13	J13	M13	M13	M13	D13	M13	V13
M14	S14	L14	J14	M14	M14	V14	M14	M14	M14	L14	J14	S14
J15	D15	L15	S15	M15	M15	S15	M15	M15	M15	M15	V15	D15
V16	L16	S16	D16	M16	M16	V16	D16	M16	M16	L16	S16	L16
S17	M17	L17	J17	M17	M17	J17	M17	M17	M17	J17	D17	M17
D18	M18	L18	L18	M18	M18	V18	M18	M18	M18	V18	M18	M18
L19	J19	L19	M19	M19	M19	S19	M19	M19	M19	S19	M19	J19
M20	V20	S20	D20	M20	M20	V20	J20	M20	M20	D20	M20	V20
M21	S21	L21	J21	M21	M21	S21	M21	M21	M21	L21	J21	S21
J22	D22	L22	S22	M22	M22	V22	M22	M22	M22	D22	V22	D22
V23	L23	S23	D23	M23	M23	J23	M23	M23	M23	L23	S23	M23
S24	M24	L24	J24	M24	M24	V24	M24	M24	M24	J24	D24	M24
D25	M25	L25	S25	M25	M25	S25	M25	M25	M25	V25	M25	D25
L26	J26	L26	M26	M26	M26	V26	D26	M26	M26	S26	M26	J26
M27	V27	S27	D27	M27	M27	J27	M27	M27	M27	L27	J27	M27
M28	S28	L28	J28	M28	M28	V28	M28	M28	M28	D28	M28	S28
J29	D29	L29	S29	M29	M29	J29	M29	M29	M29	L29	J29	D29
V30	M30	L30	D30	M30	M30	V30	M30	M30	M30	J30	D30	M30
S31	L31	S31	D31	M31	M31	J31	V31	D31	M31	L31	M31	J31

fermeture de l'Université

Jour férié